


Prénom :

Date :


# Les nombres jusqu'à 199 (1)

Numération

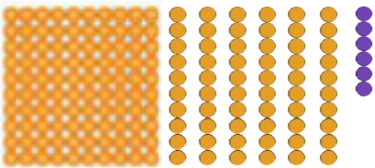
1. **Ecris** le nombre correspondant :




-----




-----



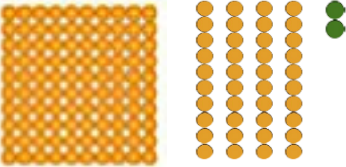
-----




-----




-----



-----



-----



-----

Prénom :

Date :

Les nombres jusqu'à  
199 (2)

Numération

1. **Complète** le tableau :

Nombre en chiffres	Nombre en lettres
149	
116	
195	
123	
110	
	<i>cent-trente-quatre</i>
	<i>cent-soixante-dix</i>
	<i>cent-quarante-trois</i>
	<i>cent-quatre-vingt</i>

2. **Décompose** les nombres comme le modèle :

146	$100 + 40 + 6$
182	
125	
169	
150	
	$100 + 60 + 1$
	$100 + 3$
	$100 + 20 + 4$

Prénom :

Date :


**Evaluation : connaître les nombres jusqu'à 199**

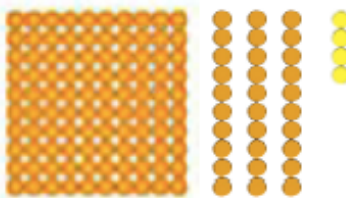
Je sais nommer et écrire les nombres en chiffres jusqu'à 199.

--	--	--	--	--

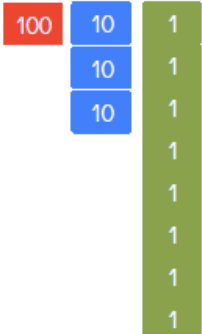
1.  **Ecris** le nombre dicté :

--	--	--	--	--	--


2.  **Ecris** le nombre correspondant :



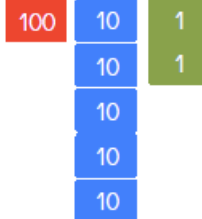
-----



-----



-----



-----

3.  **Calcule :**

$100 + 70 + 2 = \dots$        $100 + 80 + 6 = \dots$        $100 + 50 + 4 = \dots$

$100 + 30 + 1 = \dots$        $100 + 40 + 2 = \dots$        $100 + 70 + 6 = \dots$

$100 + 10 + 10 + 10 + 10 + 10 + 10 + 4 = \dots$

$100 + 10 + 10 + 10 + 10 + 10 + 10 + 10 + 10 + 10 + 8 = \dots$

$100 + 10 + 10 + 10 + 10 + 10 + 10 + 10 + 5 = \dots$