



Prénom :

Date :


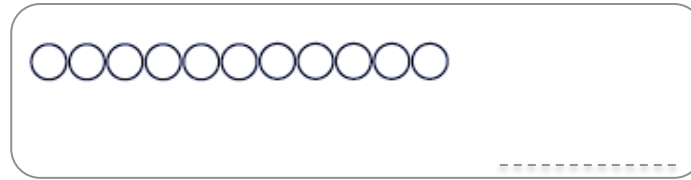
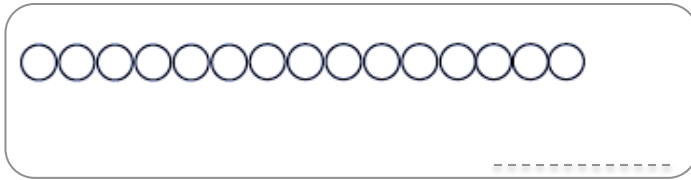
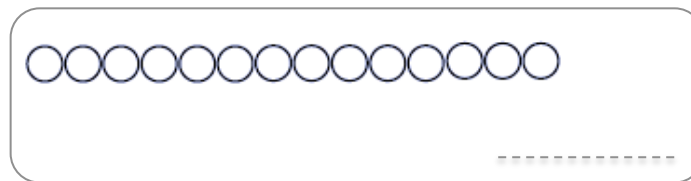
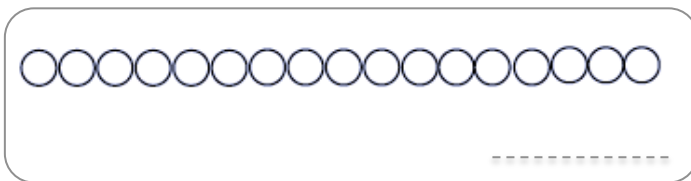
# Les nombres de 10 à 19 (1)

Numération

1.  **Colorie** les perles en formant une dizaine :



2.  **Colorie** puis  **écris** le nombre de perles :



3.  **Complète** la bande numérique :

1				5		7		9				13		15	16		
---	--	--	--	---	--	---	--	---	--	--	--	----	--	----	----	--	--

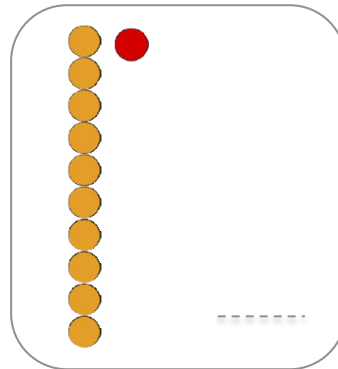
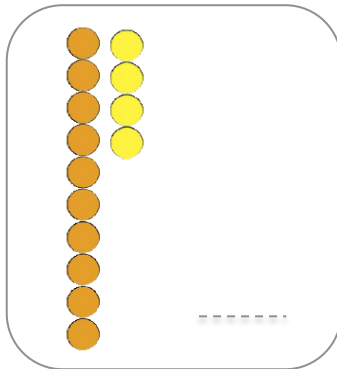
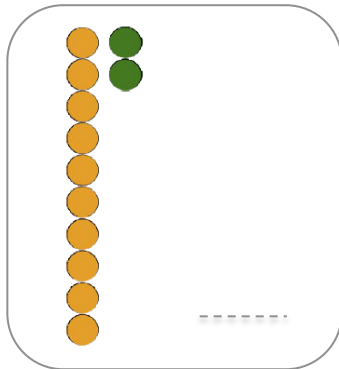
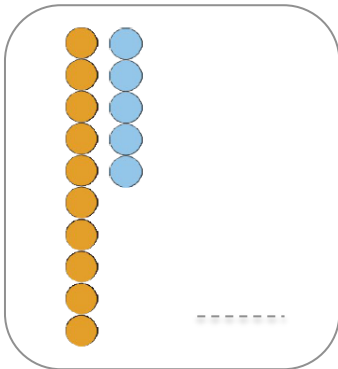
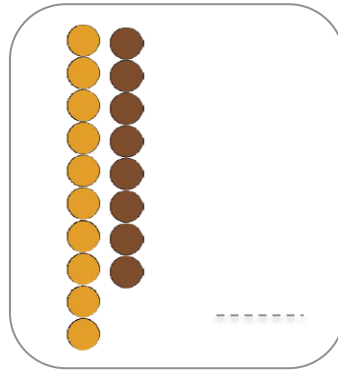
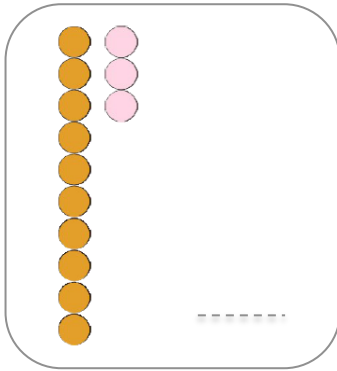
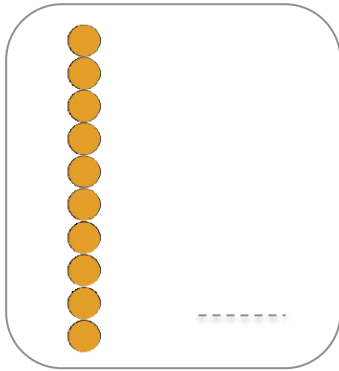
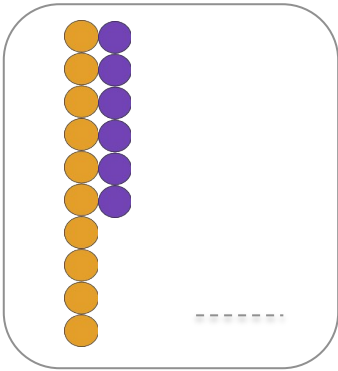
Prénom :

Date :

# Les nombres de 10 à 19 (2)

Numération

1. **Ecris** le nombre correspondant :



2. **Dessine** le nombre de perles :

15

11

17

18

12

14

16

13

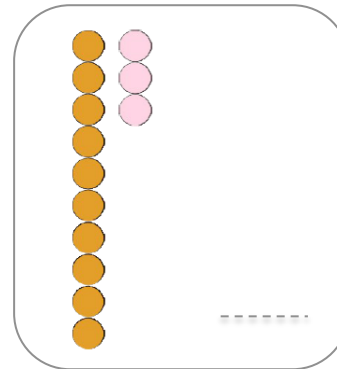
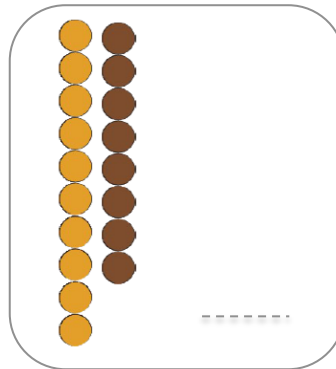
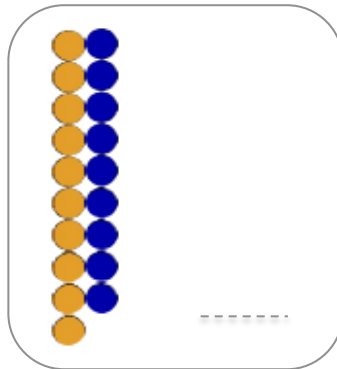
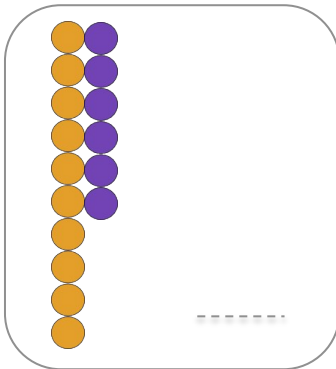
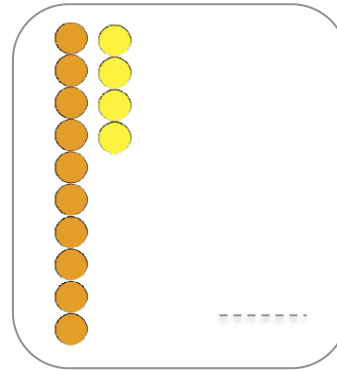
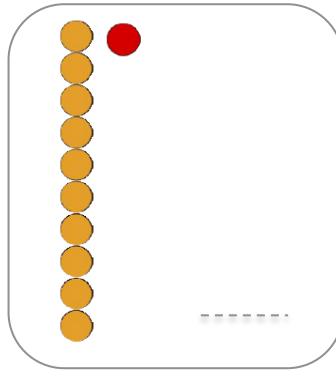
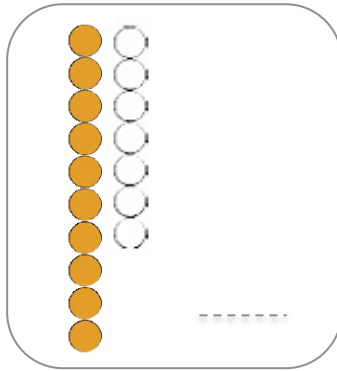
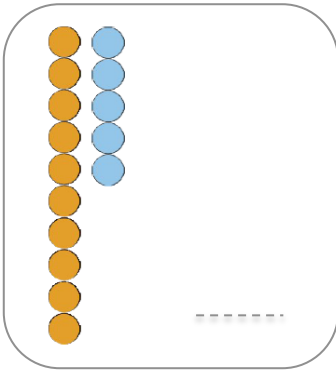
Prénom :

Date :

# Les nombres de 10 à 19 (3)

Numération

1.  **Ecris** le nombre correspondant :



2.  **Calcule** :

$10 + 2 = \dots$

$10 + 3 = \dots$

$10 + 0 = \dots$

$10 + 6 = \dots$

$10 + 1 = \dots$

$10 + 5 = \dots$

$10 + 4 = \dots$

$10 + 7 = \dots$

$10 + 6 = \dots$

$10 + 9 = \dots$

$10 + 8 = \dots$

$10 + 3 = \dots$

3.  **Complète** les bandes numériques :

1	2	3	4	5		7	8		10		12		14		16		18
---	---	---	---	---	--	---	---	--	----	--	----	--	----	--	----	--	----

2			5	6	7				11			14			17		
---	--	--	---	---	---	--	--	--	----	--	--	----	--	--	----	--	--

Prénom :

Date :

Comparer et ranger  
les nombres jusqu'à 19

Numération

1.  **Ecris** le signe < ou > dans les cases.

12  18

19  12

15  18

11  7

13  3

14  12

5  16

9  11

17  9

2.  **Ecris** les nombres dans l'ordre croissant :

11	19	14	16
----	----	----	----

..... < ..... < ..... < .....

13	4	8	17
----	---	---	----

..... < ..... < ..... < .....

3.  **Ecris** les nombres dans l'ordre décroissant :

18	12	7	15
----	----	---	----

..... > ..... > ..... > .....

Prénom :

Date :

### Evaluation

### NOMBRES

2

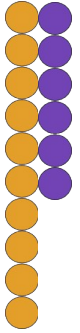


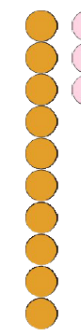
Je sais nommer et écrire les nombres en chiffres jusqu'à 19.

--	--	--	--	--

1.  **Ecris** le nombre dicté :

--	--	--	--	--	--

2.  **Ecris** le nombre correspondant :

 .....	 .....	 .....	 .....
---	--	--	--

3.  **Calcule** :

$10 + 2 = \dots$     
  $10 + 6 = \dots$     
  $10 + 4 = \dots$     
  $10 + 9 = \dots$

4.  **Ecris** le signe < ou > dans les cases :

$12 \square 17$     
  $19 \square 11$     
  $15 \square 18$

5.  **Ecris** les nombres dans l'ordre croissant :

11	19	8	16	12
----	----	---	----	----

..... < ..... < ..... < ..... < .....

18	5	13	8	16
----	---	----	---	----

..... < ..... < ..... < ..... < .....

### NOMBRES

6

Je sais comparer les nombres jusqu'à 19.

--	--	--	--

### NOMBRES

10

Je sais dire et écrire une suite de nombres dans l'ordre croissant ou décroissant → 19.

--	--	--	--

Prénom :

Date :

### Evaluation

### NOMBRES 2

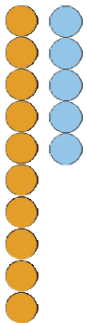
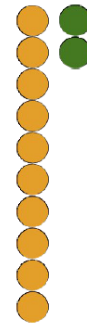

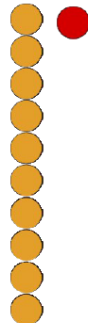
Je sais nommer et écrire les nombres en chiffres jusqu'à 19.

--	--	--	--	--

1.  **Ecris** le nombre dicté :

--	--	--	--	--	--

2.  **Ecris** le nombre correspondant :

 .....	 .....	 .....	 .....
---	--	--	--

3.  **Calcule** :

$10 + 3 = \dots$     
  $10 + 8 = \dots$     
  $10 + 2 = \dots$     
  $10 + 6 = \dots$

4.  **Ecris** le signe < ou > dans les cases :

$19 \square 14$     
  $17 \square 13$     
  $12 \square 18$

5.  **Ecris** les nombres dans l'ordre croissant :

1	10	19	15	11
---	----	----	----	----

..... < ..... < ..... < ..... < .....

17	6	18	12	14
----	---	----	----	----

..... < ..... < ..... < ..... < .....

### NOMBRES 6

Je sais comparer les nombres jusqu'à 19.

--	--	--	--

### NOMBRES 10

Je sais dire et écrire une suite de nombres dans l'ordre croissant ou décroissant → 19.

--	--	--	--