


Prénom :
Date :

Les boîtes de chocolats

Calcul


1

Voici des boîtes avec des chocolats à l'intérieur. Ludovic veut 13 chocolats. Il doit prendre 3 sacs pour avoir juste 13 chocolats. Entoure les boîtes qu'il peut prendre.



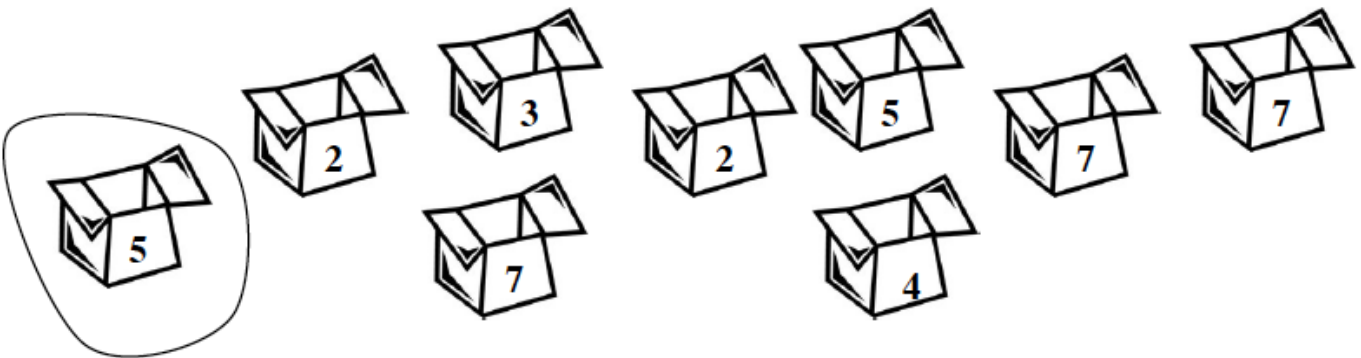
2

Rémy veut 19 chocolats. Il doit prendre 3 sacs pour avoir juste 19 chocolats. Entoure les boîtes qu'il peut prendre.



3

Charles veut 15 chocolats. Il doit prendre 3 sacs. Il en a déjà choisi un. Entoure les deux autres sacs.



$$3 + 2 + \dots = 12$$

$$5 + 4 + \dots = 14$$

$$7 + \dots + 1 = 9$$

$$13 = 2 + \dots + 8$$

$$4 + \dots + 6 = 15$$

$$11 = \dots + 3 + 5$$

$$3 + 5 + \dots = 12$$

$$7 + 3 + 4 = \dots$$

$$19 = 9 + 5 + \dots$$